


Итог



6 класс Шифр 5623

Итого

39

100

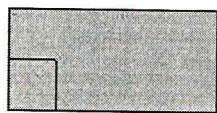
Задания школьного этапа Всероссийской Олимпиады школьников
по технологии (технический труд) 5-6 класс

Теоретическая часть, максимальное кол-во баллов 20


Задание 1. Рисунок на поверхности древесины называют:

- а. Структурой б. Фактурой в. Текстурой г. Камбий


Задание 2. На каком рисунке изображена правильная разметка?



1



2



3

Задание 3. Как узнать возраст дерева:

- а. По коре б. По текстуре в. По годичным кольцам г. По количеству ветвей

Задание 4. К лиственным породам древесины не относится:

- а. Береза б. Кипарис в. Ольха г. Лиственница

Задание 5. Основное оборудование рабочего места учащегося в столярной мастерской:

- а. Столярный верстак б. Набор инструментов в. Набор материалов

Задание 6. В каком направлении располагаются зубья пилки в лобзике?

- а. В сторону верхнего зажима (вверх) в. Не имеет значения

б. В сторону ручки (вниз)

г. В сторону рамки

Задание 7. В каких единицах измерения проставляют размеры на чертежах?

- а. в метрах б. в миллиметрах г. в сантиметрах

Задание 8. Наглядное объемное изображение предмета, выполненное от руки с указанием

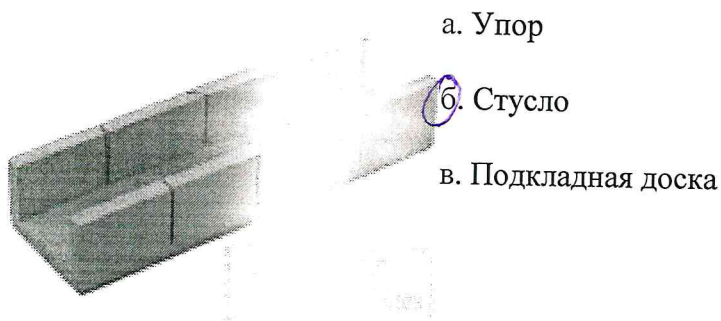
Задание 18. Как называется документ, в котором указана последовательность выполнения операций?

- ☒ а. Технологическая карта
- б. Технический паспорт
- в. Технический талон
- г. Технический рисунок

Задание 19. Выполнение творческого проекта начинается

- а. С определения потребностей и возможностей проектной деятельности
- б. Со сбора информации для выполнения проекта
- в. С изготовления изделий
- ☒ г. С выбора темы проекта

Задание 20. Как называется это приспособление для пиления



- а. Упор
- ☒ б. Стусло
- в. Подкладная доска

Практическая часть: кол-во баллов 20:

- Заправить лобзик;
- Сделать разметку по шаблону

а. Эскизом ☒ б. Техническим рисунком в. Чертежом г. Развёрткой

Задание 9. При каком масштабе изображение увеличено?

а. М 1:1 ☒ б. М 2:2 в. М 1:2 ☒ г. М 2:1

Задание 10. Древесину заготавливают:

а. Лесничества ☒ б. Деревообрабатывающая промышленность
☒ в. Лесхозы г. Цепные пилы

Задание 11. Выберите ответ, в котором указаны только хвойные породы древесины

☒ а. Сосна, ель, пихта, лиственница, кедр ☒ б. Ель, осина, сосна, лиственница, дуб
в. Кедр, тополь, лиственница, ясень, сосна

Задание 12. Вспомогательный инструмент для чистовой обработки деталей из древесины называют:

а. Рашпиль б. Скребок в. Шлифовальная шкурка ☒ г. Рубанок

Задание 13. Из какого материала изготавливают изделия в столярной мастерской?

а. Из металла ☒ б. Из древесины ☒ в. Из древесины и металла

Задание 14. К разметочному инструменту не относится:

а. Циркуль б. Чертёжная в. Угольник ☒ г. Зубило

Задание 15. Вспомогательный инструмент, для фиксации заготовки при пилении?

а. Наковальня б. Привальная плита в. Верстак ☒ г. Зажим

Задание 16. Как называется кусок древесины, из которого изготавливаются детали?

☒ а. Материал ☒ б. Заготовка в. Древесина

Задание 17. Что называется шаблоном?

а. Эскиз детали б. Чертеж детали ☒ в. Пластина, очертания которой соответствуют контуру детали